

Uma vida mais saudável

- 1 Cláudio recebeu da professora um envelope com cartões com o número 5 e cartões com o número 10. Ele retirou desse envelope o valor correspondente a 40. Quais podem ter sido os cartões que ele retirou?

- 2 Lílian pratica karatê. Seus treinos começam às 10 horas da manhã, mas ela chegou às 10h30 à academia. Ela chegou atrasada ou adiantada? Quanto tempo?



Francisco Javier Jaime Sanchez/ID/ES

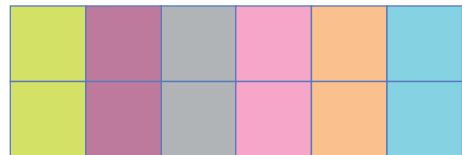

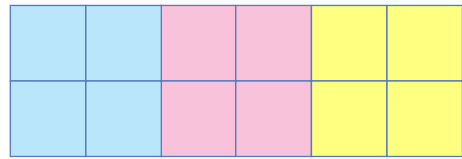
Uma vida mais saudável

3 Ligue cada figura à multiplicação correspondente.

2×6

3×4

3×5



4 Observe e complete.

6h30 | Felipe acorda!



Montise Fontich/ID/ES

7h | Felipe toma café.

8h | Entra na escola!



Comstock Images/ID/ES

7h15 | Felipe sai para a escola

a) Quanto tempo Felipe leva para ir de casa até a escola?

b) Desde que Felipe acordou até o momento em que ele chegou à escola, quanto tempo se passou?

5 Regiane vende cocadas numa praça. Hoje ela fez 395 cocadas e vendeu 285. Quantas cocadas sobraram?

Uma vida mais saudável

- 6 Fernanda trabalha numa loja de roupas. Todos os dias ela confere suas vendas. Num único dia ela vendeu 58 calças e 26 blusas. No total, quantas peças ela vendeu?

- 7 A mãe de Rafael tem 178 centímetros de altura e ele tem 1 metro e 5 centímetros. Quantos centímetros a mãe de Rafael tem a mais que ele?



Martial Colomb/ID/ES

- 8 Calcule as multiplicações de duas maneiras diferentes:

a) $5 \times 3 \times 4 =$

b) $2 \times 5 \times 9 =$

c) $8 \times 7 \times 3 =$

d) $6 \times 9 \times 5 =$

Uma vida mais saudável

9 Complete as multiplicações:

x	2	3	5	9
6				
7				
8				
9				

10 Pinte a multiplicação correta para o resultado que está ao lado. Use a mesma cor do resultado.

a)

5×3

9×2

8×4

18

b)

8×5

3×2

6×7

42

c)

4×1

6×4

7×8

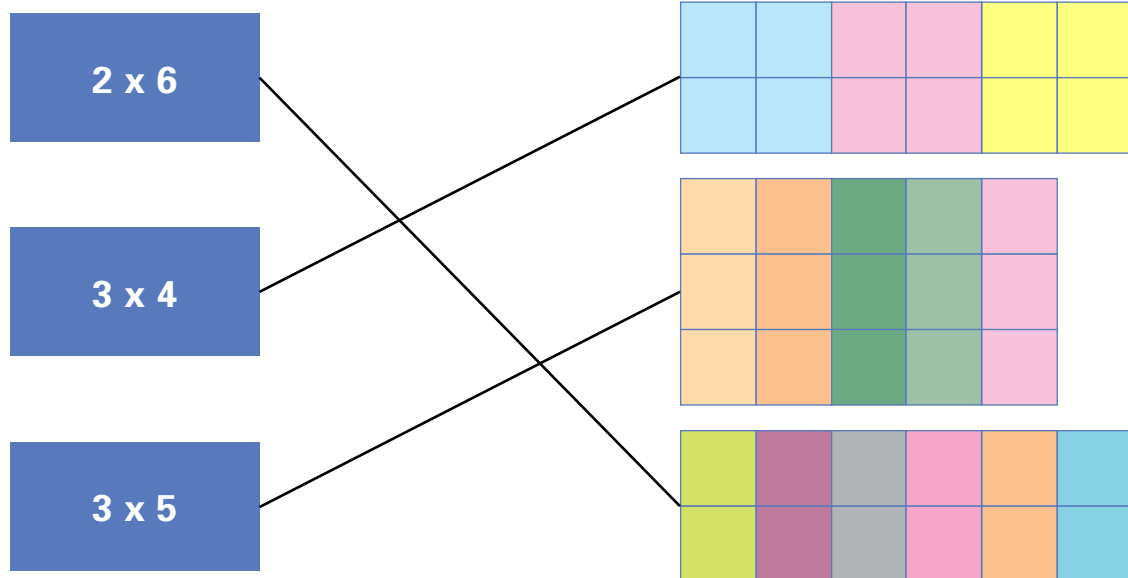
24

Respostas

1 Ele pode ter retirado 3 cartas de 10 e 2 de 5, ou 4 cartas de 10, ou 2 cartas de 10 e 4 cartas de 5, ou 1 carta de 10 e 6 cartas de 5, ou 8 cartas de 5.

2 Ela chegou atrasada 30 minutos.

3



4 a) Felipe leva 45 minutos para chegar até a escola.

b) Passaram-se 90 minutos ou 1 hora e 30 minutos.

5 Sobraram 110 cocadas.

6 Ela já guardou 84 peças.

7 A mãe de Rafael tem 73 centímetros a mais que ele.

8 a) $5 \times 12 = 60$

$15 \times 4 = 60$

b) $2 \times 45 = 90$

$10 \times 9 = 90$

c) $8 \times 21 = 168$

$56 \times 3 = 168$

d) $6 \times 45 = 270$

$54 \times 5 = 270$

9

x	2	3	5	9
6	12	18	30	54
7	14	21	35	63
8	16	24	40	72
9	18	27	45	81

10

a)

5×3

9×2

8×4

18

b)

8×5

3×2

6×7

42

c)

4×1

6×4

7×8

24